



Concurso „Caballito de Ajedrez” Categoría Alfíl

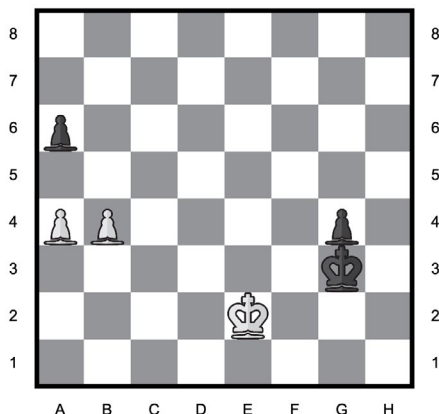
A continuación encontrarás 30 problemas ordenados de menor a mayor dificultad. Los primeros 10 valen 3 puntos, los siguientes 10 tienen un valor de 4 puntos y los últimos 10 de 5 puntos. Empiezas con 30 puntos. Por cada respuesta incorrecta se resta $\frac{1}{4}$ de los puntos asignados a la tarea. La falta de respuesta significa 0 puntos. La puntuación máxima a obtener es de 150 puntos.

CONCURSO „CABALLITO DE AJEDREZ” 30 DE OCTUBRE DE 2025

PROBLEMA N.º 1

¿Cuál es la mejor jugada para las Blancas?


A	B	C	D	E
Rf1	a5	Rd3	b5	Re3
A	B	C	D	E



PROBLEMA N.º 2

¿Qué jugada de las Blancas lleva a la captura de un alfil?


A	B	C	D	E
e:f7	Te5	g4	C:d4	Tb3
A	B	C	D	E



PROBLEMA N.º 3

¿Qué jugada de las Negras les permite obtener una ventaja de al menos un caballo?


A	B	C	D	E
D:g5	C:e3	h6	f6	f5
H	G	F	E	D



PROBLEMA N.º 4

¿Cuál es la mejor jugada para las Blancas?


A	B	C	D	E
D:d8	Db7	De5	Dg5	D:b5
A	B	C	D	E



PROBLEMA N.º 5

¿Las Negras pueden dar jaque mate forzado en dos movimientos después de la jugada?


A	B	C	D	E
Cg4	Tg5	Th5	Tf5	ninguno
H	G	F	E	D



PROBLEMA N.º 6

¿Cuál es la mejor jugada para las Negras?

A	B	C	D	E
D:b2	De8	Db8	Dd6	Ce4
H	G	F	E	D






Categoría Alfil


Cuál es la mejor jugada que pueden realizar las Blancas para evitar la pérdida de material?

A C:c3	B Ad2	C Tf1	D Tg1	E Cg1
------------------	-----------------	-----------------	-----------------	-----------------




¿Cuál es la mejor jugada para las Negras?

A R:g7	B Db5	C Tb8	D Db6	E D:a1
------------------	-----------------	-----------------	-----------------	------------------




¿Cuál es la mejor jugada para las Negras?

A e:d5	B Dh4	C Tac8	D Da3	E Tec8
------------------	-----------------	------------------	-----------------	------------------




¿Cuál es la mejor jugada para las Negras?

A	B	C	D	E
g5	Tc4	Tch8	Thh8	Tc7




¿Qué jugada de las Negras lleva a la captura de al menos una torre?

A	B	C	D	E
ninguno	Tb2	Tcc4	Tbc4	Tb1




¿Cuál es la mejor jugada para las Negras?

A Ce1	B Rc6	C R6	D b5	E Ce5
-----------------	-----------------	----------------	----------------	-----------------




¿Cuál es la mejor jugada para las Negras?

A Aa3	B Ad6	C Ae7	D Ad2	E Gc3
-----------------	-----------------	-----------------	-----------------	-----------------



¿Cuál es la mejor jugada para las Blancas?

A Df6	B Dg3	C Dg4	D De3	E Dh3
-----------------	-----------------	-----------------	-----------------	-----------------





Categoría Alfil

PROBLEMA N.º 24


¿Qué jugada de las Negras lleva a la captura de una torre?

¿Cuál es la mejor jugada para las Blancas?

A f3	B Cf5	C Dh6	D Cg6	E ninguno
H	G	F	E	D
			C	B
				A



A D:d1	B T:d1	C Ag5	D Ag7	E Th5			
A	B	C	D	E	F	G	H




PROBLEMA N.º 26


¿Cuál de las jugadas indicadas es la peor para las Negras?

¿Cuál es la mejor jugada para las Blancas?

A T:f1	B Cf6	C e4	D Tf4	E Tff5
H	G	F	E	D
			C	B
				A



A A:e4	B e:f4	C Th8	D Th7	E Dg1			
A	B	C	D	E	F	G	H

**PROBLEMA N.º 28**

¿Las Negras pueden dar jaque mate forzado en dos movimientos después de la jugada?


PROBLEMA N.º 29

¿Cuál es la mejor jugada para las Blancas?


PROBLEMA N.º 30

¿Cuál es la mejor jugada para las Blancas?

A e3	B Td2	C T8	D Tg2	E ninguno
H	G	F	E	D
			C	B
				A



A Ad4	B R:h3	C Da5	D f4	E D:d8			
A	B	C	D	E	F	G	H



A Af6	B Tf3	C Rh2	D T:b4	E h4			
A	B	C	D	E	F	G	H

